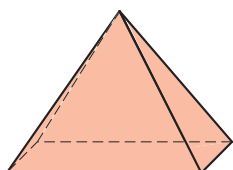
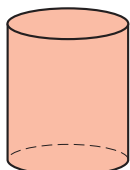


ARBETSBLAD 45

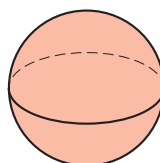
Geometriska objekt (II)



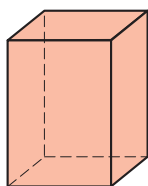
A



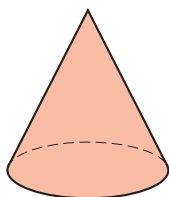
B



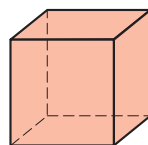
C



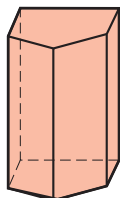
D



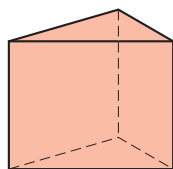
E



F



G



H

Här ovanför finns ett antal geometriska objekt. Några av dem har flera namn.

Vilket eller vilka av objekten ovan är

- 1 en kon _____
- 2 ett rätblock _____
- 3 en kub _____
- 4 en cylinder _____
- 5 en pyramid _____
- 6 ett klot _____
- 7 ett prisma _____

ARBETSBLAD 45 - FACIT

Geometriska objekt (II)

- 1 E
- 2 D och F
- 3 F
- 4 B
- 5 A
- 6 C
- 7 D, F, G och H