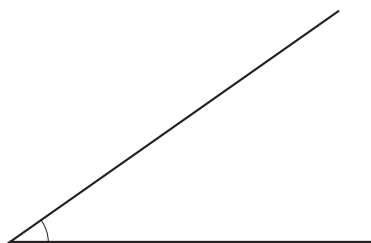


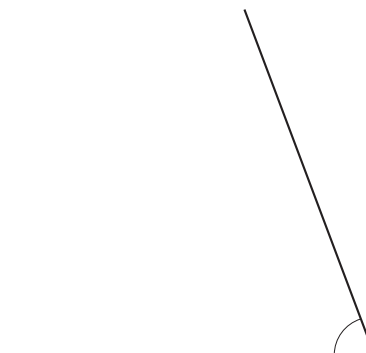
# ARBETSBLAD 55

## Vinklar (I)

Mät vinklarna. Gradtalen ska sluta på 0 eller 5.



1 Vinkeln är \_\_\_\_\_




2 Vinkeln är \_\_\_\_\_




3 Vinkeln är \_\_\_\_\_



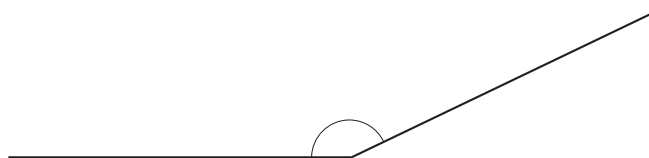
4 Vinkeln är \_\_\_\_\_



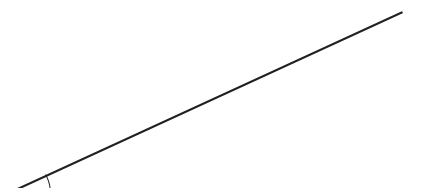
5 Vinkeln är \_\_\_\_\_



6 Vinkeln är \_\_\_\_\_



7 Vinkeln är \_\_\_\_\_



8 Vinkeln är \_\_\_\_\_

## ARBETSBLAD 55 - FACIT

---

### Vinklar (I)

**1** 35°

**2** 70°

**3** 120°

**4** 135°

**5** 45°

**6** 105°

**7** 155°

**8** 25°