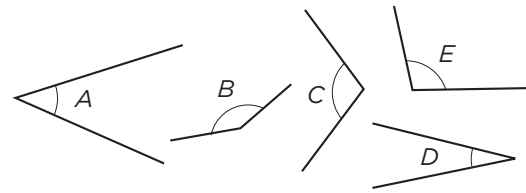


ARBETSBLAD 56

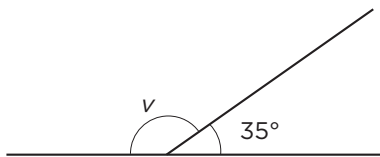
Vinklar (II)

- 1 a) Vilka vinklar är spetsiga? _____
b) Vilken vinkel är störst? _____
c) Vilken vinkel är minst? _____



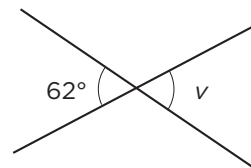
Hur stor är vinkeln v ?

2



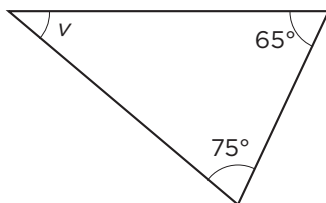
Vinkeln är _____

3



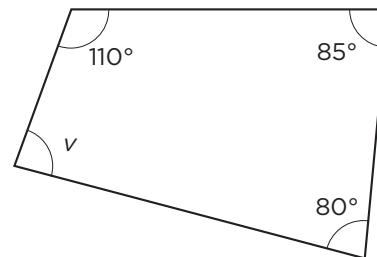
Vinkeln är _____

4



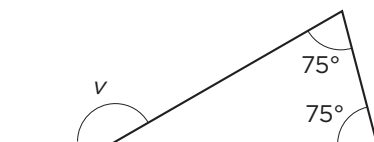
Vinkeln är _____

5



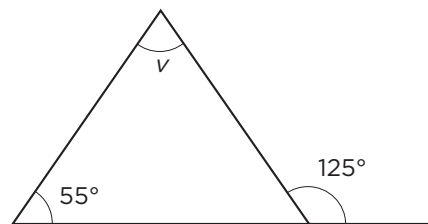
Vinkeln är _____

6



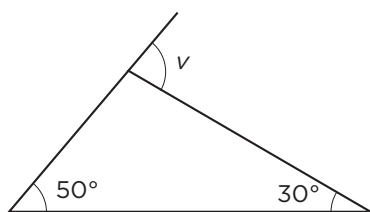
Vinkeln är _____

7



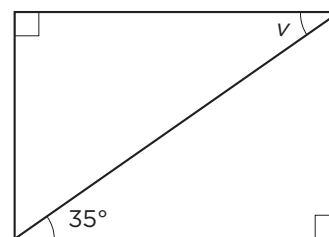
Vinkeln är _____

8



Vinkeln är _____

9



Vinkeln är _____

ARBETSBLAD 56 - FACIT

Vinklar (II)

1 a) A, D
b) B
c) D

2 145°

3 62°

4 40°

5 85°

6 150°

7 70°

8 80°

9 35°